



ÁREA CURRICULAR: Matemática

Ano: 3º

Ficha de Trabalho/Atividade nº: 3

Elaborada por: Edite Batista Pereira / Inês de Almeida Rocha Penedo

LEIA, ATENTAMENTE, AS SEGUINTES INSTRUÇÕES:

A MULTIPLICAÇÃO

1. Completa.

1 caixa tem meia dúzia de ovos = _____


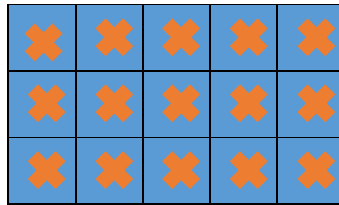

2 caixas têm ___ x ___ = ___ ou ___ + ___ = ___

3 caixas têm ___ x ___ = ___ ou ___ + ___ + ___ = ___

4 caixas têm ___ x ___ = ___ ou ___ + ___ + ___ + ___ = ___

5 caixas têm ___ x ___ = ___ ou ___ + ___ + ___ + ___ + ___ = ___

2. Usando a multiplicação, calcula o total de figuras em cada situação.



___ x ___ = ___

ou

___ x ___ = ___

___ x ___ = ___

ou

___ x ___ = ___

___ x ___ = ___

ou

___ x ___ = ___

3. Completa.

60 x 20 = _____	7 x 40 = _____	8 x 60 = _____	9 x 80 = _____
60 x 21 = _____	70 x 50 = _____	8 x 91 = _____	9 x 31 = _____
6 x 600 = _____	7 x 700 = _____	8 x 800 = _____	9 x 3000 = _____
6 x 7000 = _____	7 x 2000 = _____	8 x 760 = _____	9 x 650 = _____

4. Resolve os problemas apresentando os resultados.

- a. O João tem 12 anos. A sua avó tem o quíntuplo da minha idade. Quantos anos tem a avó?

R.: _____

- b. Comprei 24 lápis de cor e o meu irmão comprou o triplo da quantidade de lápis que eu comprei. Quantos lápis de cor comprou o meu irmão?

R.: _____

- c. A minha mãe fez 230 queques para a festa de aniversário de Sara. A minha avó fez o dobro dessa quantidade. Quantos queques fez a minha avó?

R.: _____

- d. O Daniel tem 128 moedas no seu mealheiro. Enquanto que o Ricardo tem o quádruplo de moedas do Daniel. Quantas moedas tem o Ricardo?

R.: _____

- e. O José foi à quinta do avô e colheu 364 azeitonas e o António colheu o dobro dessa quantidade. Quantas azeitonas colheu o António?

R.: _____



BIBLIOGRAFIA

LIMA, E., BARRIGÃO, N., PEDROSO, N., SANTOS, S., (2015), *Alfa - Livro de Fichas de Matemática 3º Ano*, Porto, Porto Editora;

LIMA, E., BARRIGÃO, N., PEDROSO, N., SANTOS, S., (2015), *Alfa - Livro de Matemática 3º Ano*, Porto, Porto Editora;

