



RESOLUÇÃO DA FICHA DE TRABALHO/ATIVIDADE Nº:9

ÁREA CURRICULAR: Matemática

Ano: 2º

Elaborada por: Ana Silva e Mónica Pragana

Nome: _____ Data: ____ / ____ / ____

1. Observa o exemplo e completa o quadro.

819	$800 + 10 + 9$	<i>oitocentos e dezanove</i>
820	$800 + 20 + 0$	<i>oitocentos e vinte</i>
905	$900 + 0 + 5$	<i>novecentos e cinco</i>
931	$900 + 30 + 1$	<i>novecentos e trinta e um</i>
955	$900 + 50 + 5$	<i>novecentos e cinquenta e cinco</i>
976	$900 + 70 + 6$	<i>novecentos e setenta e seis</i>
984	$900 + 80 + 4$	<i>novecentos e oitenta e quatro</i>
999	$900 + 90 + 9$	<i>novecentos e noventa e nove</i>

2. Em cada alínea pinta o número maior e ordenada todos os números por ordem decrescente.

a) $\underline{910} > \underline{901} > \underline{109}$

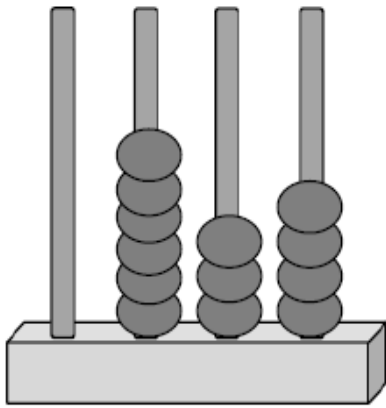
b) $\underline{382} > \underline{328} > \underline{283}$

3. Em cada alínea pinta o número menor e ordenada todos os números por ordem crescente.

a) $\underline{504} < \underline{540} < \underline{550}$

b) $\underline{670} < \underline{706} < \underline{760}$

4. Observa os ábacos, lê o número representado e completa todas as informações.



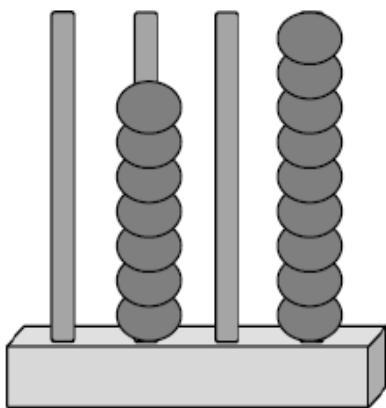
634 → *seiscentos e trinta e quatro*

$$\underline{600} + \underline{30} + \underline{4} = \underline{634}$$

6 centenas, 3 dezenas e 4 unidades

6 centenas e 34 unidades

63 dezenas e 4 unidades

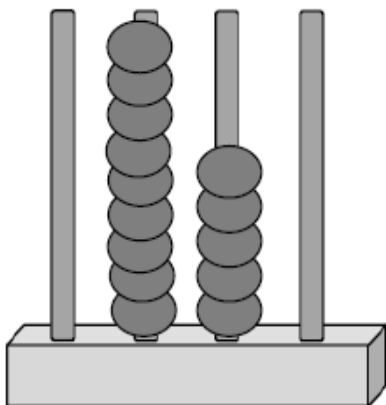


→ **Setecentos e nove**

$$\underline{700} + \underline{9} = \underline{709}$$

7 centenas e 9 unidades

70 dezenas e 9 unidades



→ **Novecentos e cinco**

$$\underline{900} + \underline{50} = \underline{950}$$

9 centenas e 5 dezenas

9 centenas e 5 unidades

90 dezenas

5. Completa as listas ordenadas de números.

499, 500, 501

598, 599, 600

699, 700, 701

808, 809, 810

918, 919, 920

998, 999, 1000