



ÁREA CURRICULAR: Matemática

Ano: 2º

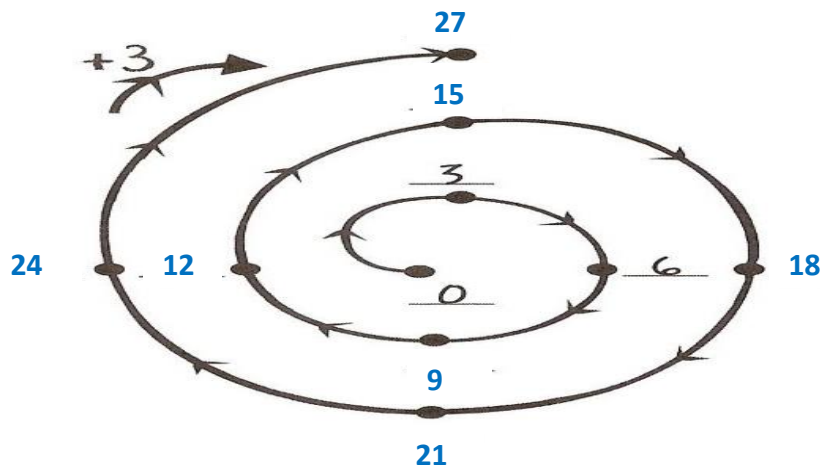
Ficha de Trabalho/Atividade nº: 7

Elaborada por: Ana Silva e Mónica Pragana

LEIA, ATENTAMENTE, AS SEGUINTE INSTRUÇÕES:

• Lê os enunciados com muita atenção e responde com calma.

1. Completa a sequência.



2. Preenche a tabela de acordo com a tabuada do 3.

X	1	2	3	4	5	6	7	8	9	10
3	3	6	9	12	15	18	21	24	27	30

3. Calcula mentalmente.

$3 \times 3 = \underline{9}$

$3 \times \underline{8} = 24$

$\underline{7} \times 3 = 21$

$5 \times 3 = \underline{15}$

$3 \times \underline{4} = 12$

$\underline{5} \times 3 = 15$

$7 \times 3 = \underline{21}$

$3 \times \underline{10} = 30$

$\underline{9} \times 3 = 27$











$9 \times 3 = \underline{27}$

$3 \times \underline{6} = 18$

$\underline{4} \times 3 = 12$



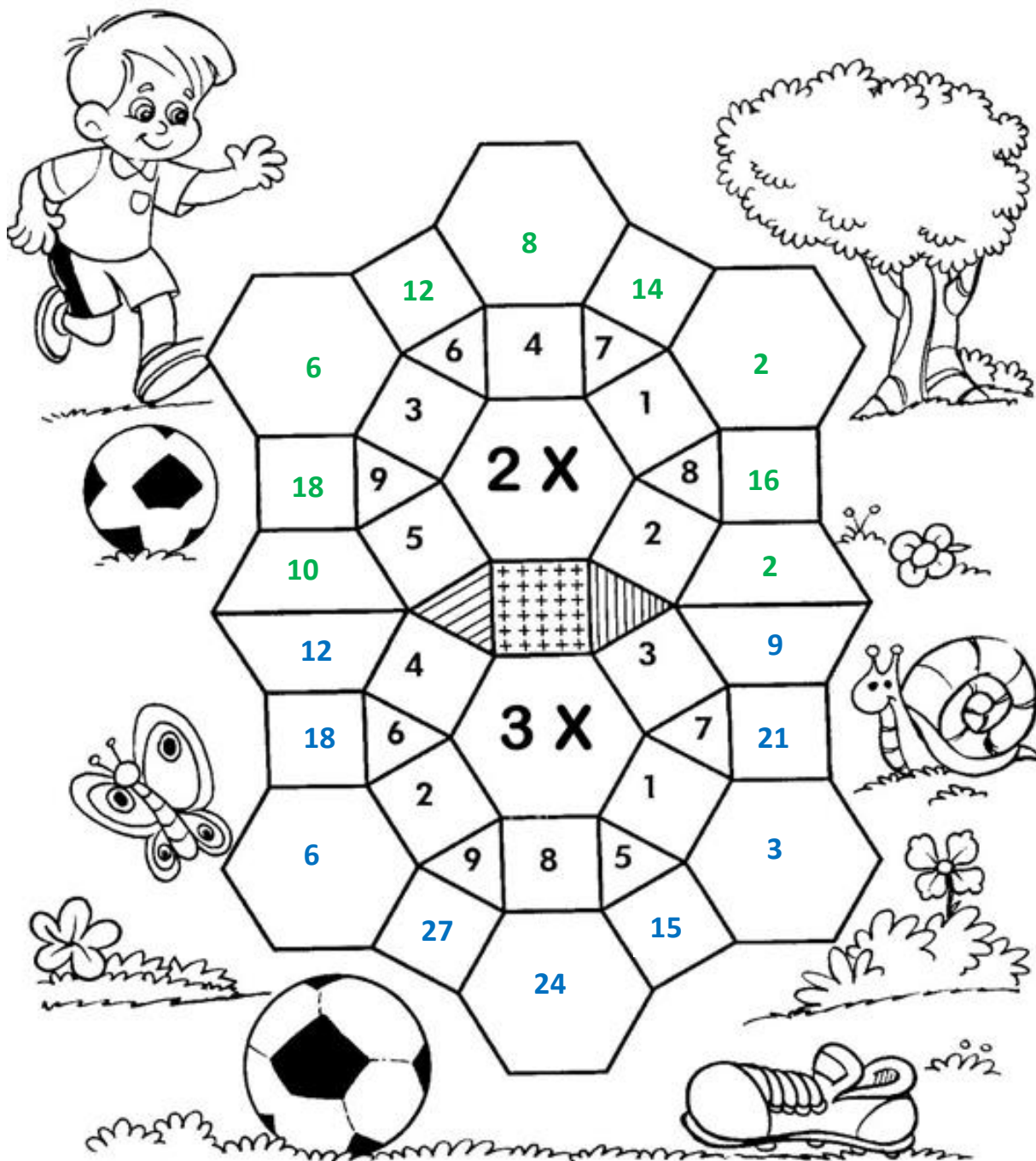
4. Transforma as multiplicações em adições. Observa os exemplos.

$1 \times 3 = 3$	 3
$2 \times 3 = 6$	 $3 + 3 = 6$
$3 \times 3 = 9$	 $3 + 3 + 3 = 9$
$4 \times 3 = 12$	 $3 + 3 + 3 + 3 = 12$
$5 \times 3 = 15$	 $3 + 3 + 3 + 3 + 3 = 15$
$6 \times 3 = 18$	 $3 + 3 + 3 + 3 + 3 + 3 = 18$
$7 \times 3 = 21$	 $3 + 3 + 3 + 3 + 3 + 3 + 3 = 21$
$8 \times 3 = 24$	 $3 + 3 + 3 + 3 + 3 + 3 + 3 + 3 = 24$
$9 \times 3 = 27$	 $3 + 3 + 3 + 3 + 3 + 3 + 3 + 3 + 3 = 27$
$10 \times 3 = 30$	 $3 + 3 + 3 + 3 + 3 + 3 + 3 + 3 + 3 + 3 = 30$

5. Efectua os cálculos e liga aos respetivos resultados.

$3 + 3 + 3 + 3 + 3$ ● 9 ● 5×3
 $3 + 3$ ● 15 ● 3×3
 $3 + 3 + 3$ ● 6 ● 8×3
 $3 + 3 + 3 + 3 + 3 + 3 + 3 + 3$ ● 24 ● 2×3

6. Completa o mosaico da multiplicação, resolvendo os fatos.



Já sei 😊

Tenho de praticar 😐

Ainda não sei ☹️