



**RESOLUÇÃO DA FICHA DE TRABALHO/ATIVIDADE Nº:20**

ÁREA CURRICULAR: Matemática

Ano: 2º

Elaborada por: Ana Silva e Mónica Pragana

LEIA, ATENTAMENTE, AS SEGUINTE INSTRUÇÕES:

\*Vê as respostas dadas, pega na tua ficha e corrige as que erraste.

Nome: \_\_\_\_\_

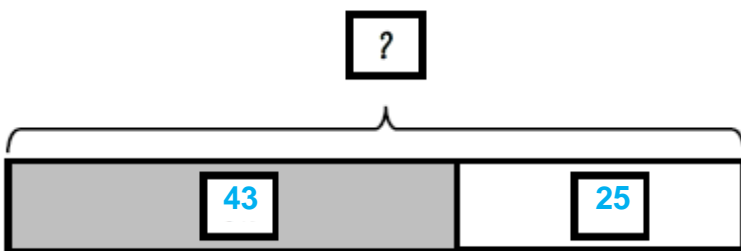

Data: \_\_\_\_/\_\_\_\_/\_\_\_\_

**1. Resolve as situações problemáticas.**

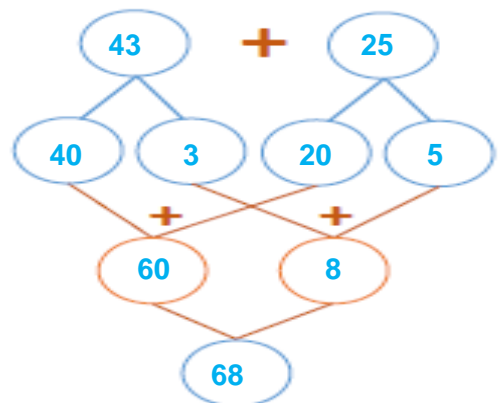
a) A Mena tem 43 euros no seu mealheiro.

O tio Rui ofereceu-lhe 25 euros no seu aniversário.

Com quanto dinheiro ficou a Mena?



$$\boxed{43\text{€}} + \boxed{25\text{€}} = \boxed{68\text{€}}$$



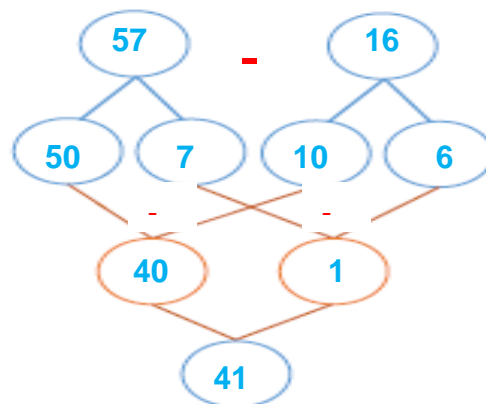
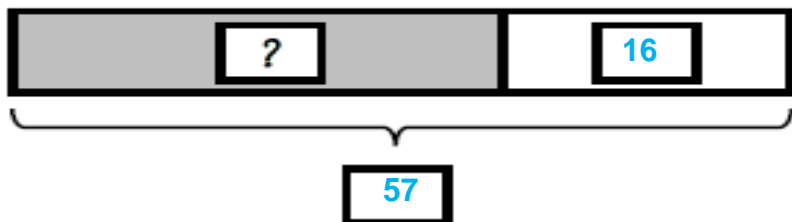

Resposta: A Mena ficou com 68 euros



b) O Ivo tinha 57 euros na carteira.

Comprou um jogo de dominó por 16 euros.

Quanto dinheiro tem agora o Ivo?



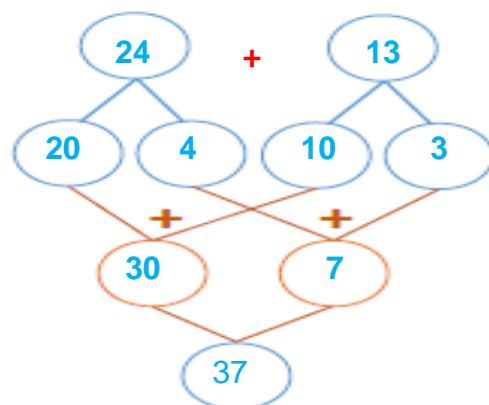
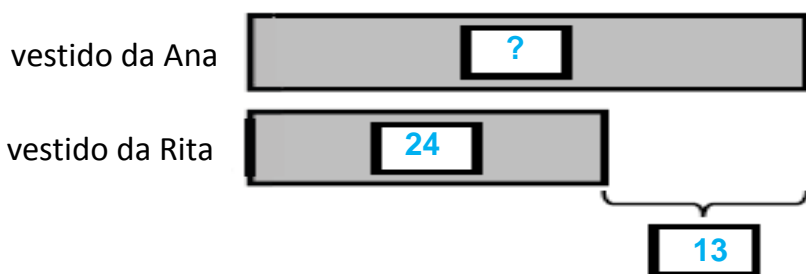
$$\boxed{57} - \boxed{16} = \boxed{41}$$

Resposta: O Ivo tem agora 41 euros.

c) A Rita tem um vestido que custou 24 euros.

O vestido da Ana custou mais 13 euros do que o da Rita.

Quanto custou o vestido da Ana?



$$\boxed{24} + \boxed{13} = \boxed{37}$$

Resposta: O vestido da Ana custou 37 euros.

## Fontes Bibliográficas:

- ✓ Prof DA Ana Almada, Matemática Passo a Passo – 2º ano, in <http://dre.moodle3.edu.azores.gov.pt>
- ✓ Matemática Passo a Passo, Caderno do aluno 2º ano de escolaridade. Letras Lavradas Edições 2019. Coordenação Científica: Ricardo Teixeira

