



2. Calcula as quantias de dinheiro e escreve-as nos espaços indicados.

a)  €



b)  €



c)  €



d)  €



e)  €





f)  €



3. Preenche os espaços com o número de moedas necessárias para ficar com a mesma quantia.



a)  =  

b)  =  

c)  =  

d)  =  

e)  =  

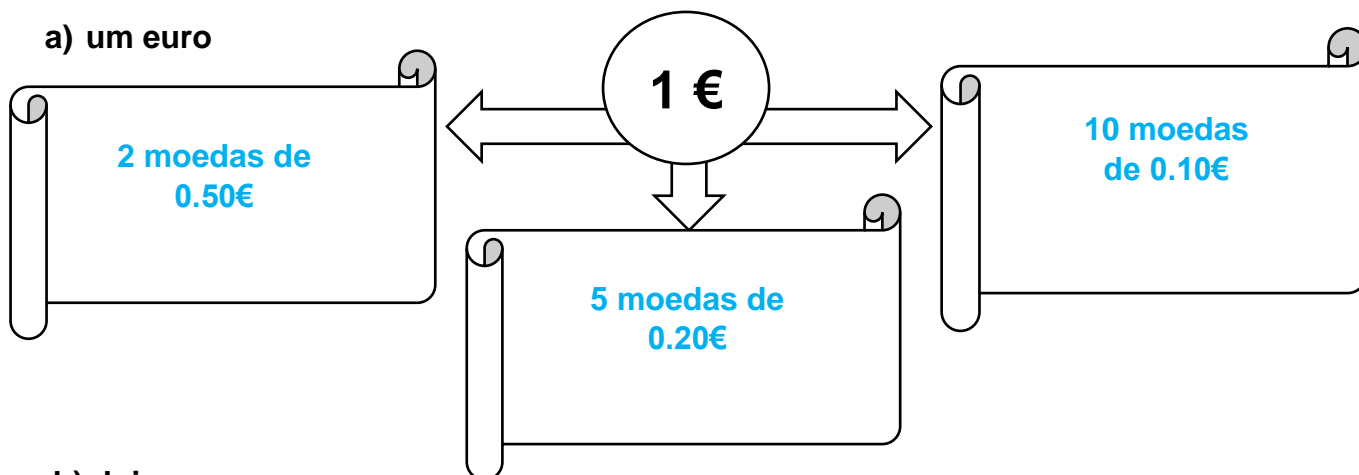
f)  =  

g)  =  

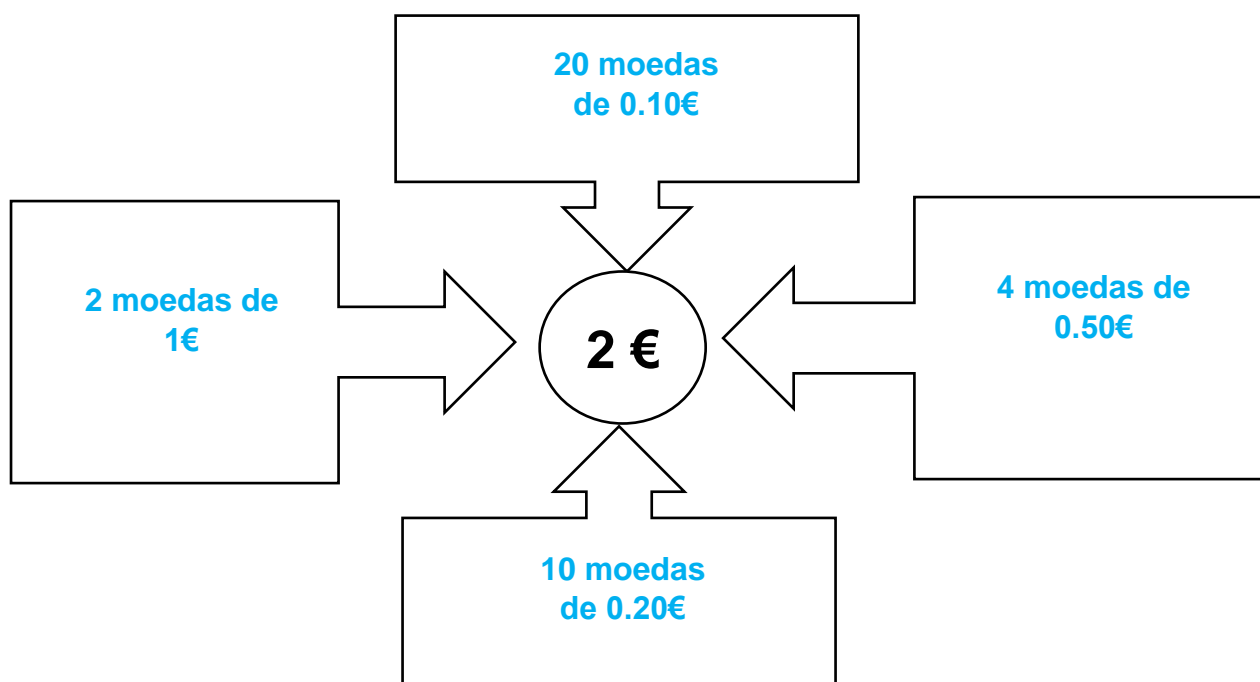
h)  =  

4. Desenha moedas de modo a formar as seguintes quantias de dinheiro:

a) um euro



b) dois euros



5. Lê e escreve as quantias de dinheiro.

18 €	Dezoito euros
46€	quarenta e seis euros
12 € 50 cent.	Doze euros e cinquenta cêntimos
24€ 35 cent.	vinte e quatro euros e trinta e cinco cêntimos
43 € 15 cent.	Quarenta e três euros e quinze cêntimos
86€ 52 cent.	oitenta e seis euros e cinquenta e dois cêntimos

## Fontes Bibliográficas:

- ✓ Prof DA Hortense Fonseca, Laudalina Silva, Sandra Borges e Vitor Fernandes, Matemática Passo a Passo – 2º ano, in <http://dre.moodle3.edu.azores.gov.pt>
- ✓ Matemática Passo a Passo, Caderno do aluno 2º ano de escolaridade. Letras Lavradas Edições 2019. Coordenação Científica: Ricardo Teixeira

