



ÁREA CURRICULAR: Matemática

Ano: 2º

Ficha de Trabalho/Atividade nº:9

Elaborada por: Ana Silva e Mónica Pragana

LEIA, ATENTAMENTE, AS SEGUINTE INSTRUÇÕES:

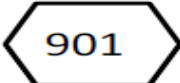
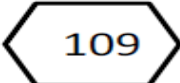
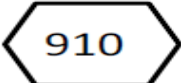
• Lê bem os enunciados e responde corretamente.

Nome: _____ Data: ____ / ____ / ____

1. Observa o exemplo e completa o quadro.




819	$800 + 10 + 9$	<i>oitocentos e dezanove</i>
820		
905		
931		
955		
976		
984		
999		




2. Em cada alínea pinta o número maior e ordenada todos os números por ordem decrescente.

a)    _____ > _____ > _____

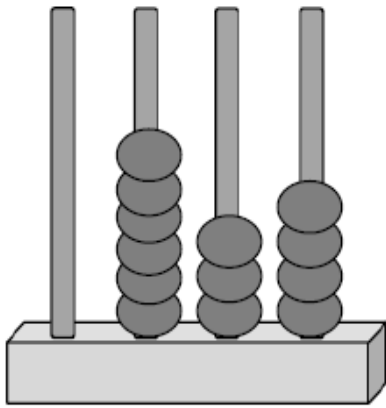
b)    _____ > _____ > _____

3. Em cada alínea pinta o número menor e ordenada todos os números por ordem crescente.

a)    _____ < _____ < _____

b)    _____ < _____ < _____

4. Observa os ábacos, lê o número representado e completa todas as informações.



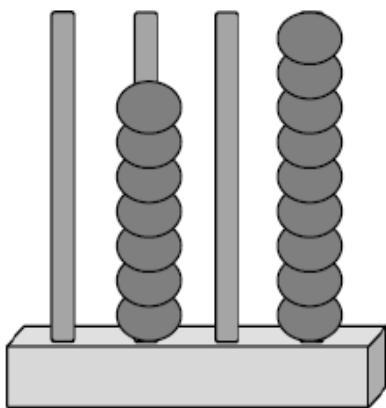
634 → *seiscentos e trinta e quatro*

___ + ___ + ___ = ___

___ centenas, ___ dezenas e ___ unidades

___ centenas e ___ unidades

___ dezenas e ___ unidades

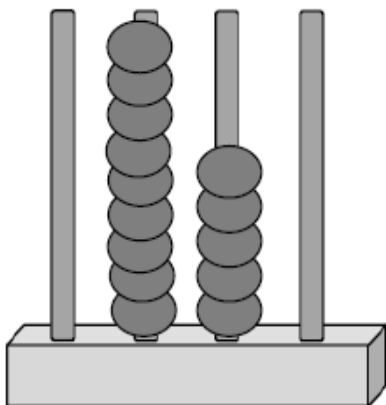


→

___ + ___ = ___

___ centenas e ___ unidades

___ dezenas e ___ unidades



→

___ + ___ = ___

___ centenas e ___ dezenas

___ centenas e ___ unidades

___ dezenas

5. Completa as listas ordenadas de números.

499, _____, 501

598, _____, 600

_____, 700, 701

808, _____, 810

918, _____, 920

998, _____, 1000

Fontes Bibliográficas:

- ✓ Top 2! Caderno de fichas de matemática 2º ano. Porto Editora. Edição de 2018.
- ✓ Caderno do aluno 2º ano – Projeto Matemática passo a passo.

