



ÁREA CURRICULAR: Matemática

Ano: 2º

Ficha de Trabalho/Atividade nº:19

Elaborada por: Ana Silva e Mónica Pragana

LEIA, ATENTAMENTE, AS SEGUINTE INSTRUÇÕES:

- Lê os problemas com atenção e responde com calma.

Nome: _____

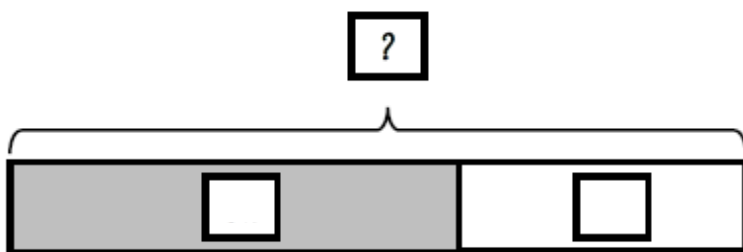

Data: ____/____/____

1. Resolve as situações problemáticas.

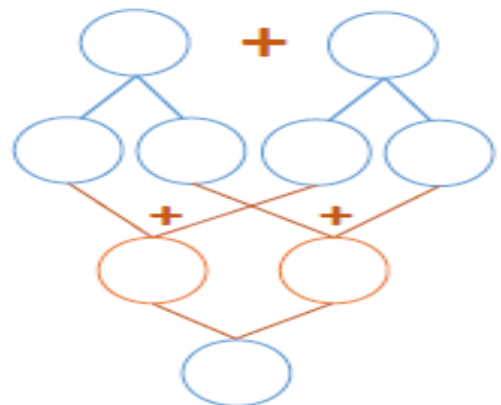
a) A Mena tem 43 euros no seu mealheiro.

O tio Rui ofereceu-lhe 25 euros no seu aniversário.

Com quanto dinheiro ficou a Mena?



$$\square \bigcirc \square = \square$$



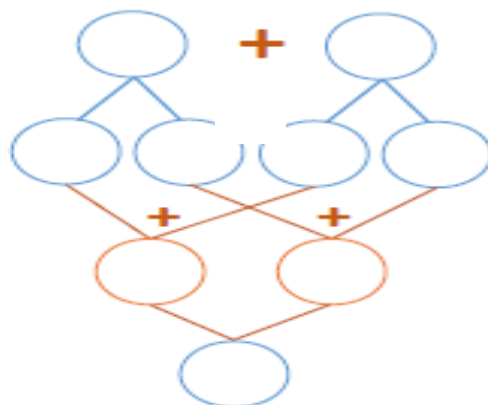
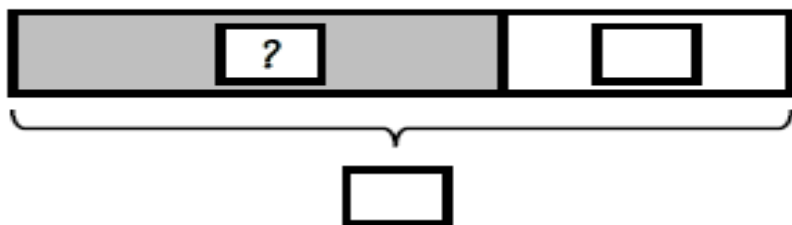

Resposta: _____



b) O Ivo tinha 57 euros na carteira.

Comrou um jogo de dominó por 16 euros.

Quanto dinheiro tem agora o Ivo?



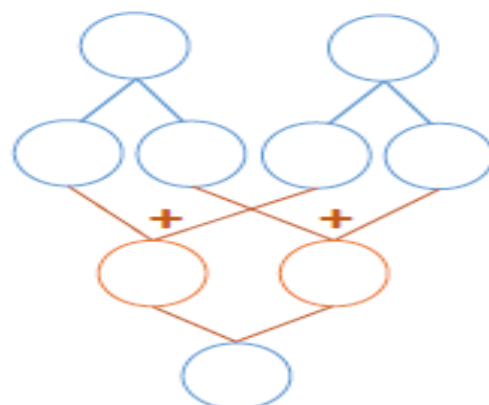
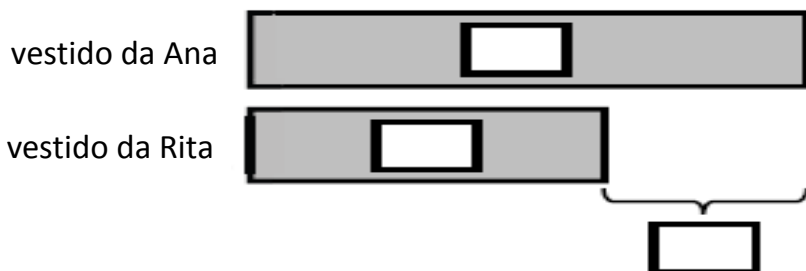
$$\square \bigcirc \square = \square$$

Resposta: _____

c) A Rita tem um vestido que custou 24 euros.

O vestido da Ana custou mais 13 euros do que o da Rita.

Quanto custou o vestido da Ana?



$$\square \circ \square = \square$$

Resposta: _____

Fontes Bibliográficas:

- ✓ Prof DA Ana Almada, Matemática Passo a Passo – 2º ano, in <http://dre.moodle3.edu.azores.gov.pt>
- ✓ Matemática Passo a Passo, Caderno do aluno 2º ano de escolaridade. Letras Lavradas Edições 2019. Coordenação Científica: Ricardo Teixeira

