



ÁREA CURRICULAR: Matemática

Ano: 2º

Ficha de Trabalho/Atividade nº:19

Elaborada por: Ana Silva e Mónica Pragana

LEIA, ATENTAMENTE, AS SEGUINTE INSTRUÇÕES:

• Lê os enunciados com atenção e responde às questões com calma.

Nome: _____ Data: ____ / ____ / ____

Compor e decompor quantias de dinheiro

1. Preenche os espaços com 2 € ou 1 €.

a) $5 \text{ €} = \square + \square + \square$

b) $5 \text{ €} = \square + \square + \square + \square$

c) $7 \text{ €} = \square + \square + \square + \square + \square$

d) $9 \text{ €} = \square + \square + \square + \square + \square$

2. Preenche os espaços com 50, 20, 10, 5, 2 ou 1 cent.

a) $7 \text{ cent} = \square + \square$

b) $11 \text{ cent} = \square + \square + \square$

c) $25 \text{ cent} = \square + \square + \square + \square$

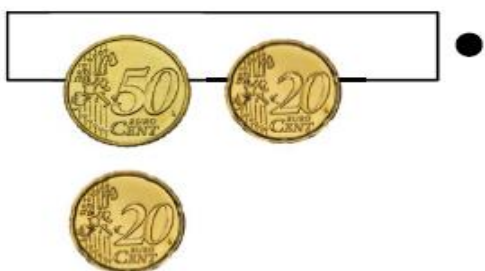
d) $30 \text{ cent} = \square + \square + \square + \square$

e) $48 \text{ cent} = \square + \square + \square + \square + \square$

f) $83 \text{ cent} = \square + \square + \square + \square + \square$





3. Liga os grupos com a mesma quantia.




4. Preenche os espaços com o número de moedas que precisas para ficar com a mesma quantia.


a)  = 

b)  = 

c)  = 

d)  = 

e)  = 

f)  = 

g)  = 

h)  = 

Fontes Bibliográficas:

- ✓ Prof DA Hortense Fonseca, Laudalina Silva, Sandra Borges e Vitor Fernandes, Matemática Passo a Passo – 2º ano, in <http://dre.moodle3.edu.azores.gov.pt>
- ✓ Matemática Passo a Passo, Caderno do aluno 2º ano de escolaridade. Letras Lavradas Edições 2019. Coordenação Científica: Ricardo Teixeira

