



ÁREA CURRICULAR: Matemática

Ano: 2º

Ficha de Trabalho/Atividade nº:18
















Elaborada por: Ana Silva e Mónica Pragana

LEIA, ATENTAMENTE, AS SEGUINTE INSTRUÇÕES:

• Lê os enunciados com atenção e responde às questões com calma.

Nome: \_\_\_\_\_ Data: \_\_\_\_/\_\_\_\_/\_\_\_\_

1. Faz as correspondências corretas.

2 euros ●	● 		● <input type="text" value="200 €"/>
1 cêntimo ●	● 		● <input type="text" value="50 €"/>
50 cêntimos ●	● 		● <input type="text" value="100 €"/>
1 euro ●	● 		● <input type="text" value="5 €"/>
20 cêntimos ●	● 		● <input type="text" value="500 €"/>
10 cêntimos ●	● 		● <input type="text" value="10 €"/>
2 cêntimos ●	● 		● <input type="text" value="20 €"/>
5 cêntimos ●	● 		

2. Calcula as quantias de dinheiro e escreve-as nos espaços indicados.

a)  €



b)  €



c)  €



d)  €



e)  €





f)  €



3. Preenche os espaços com o número de moedas necessárias para ficar com a mesma quantia.



a)  =  

b)  =  



c)  =  

d)  =  

e)  =  

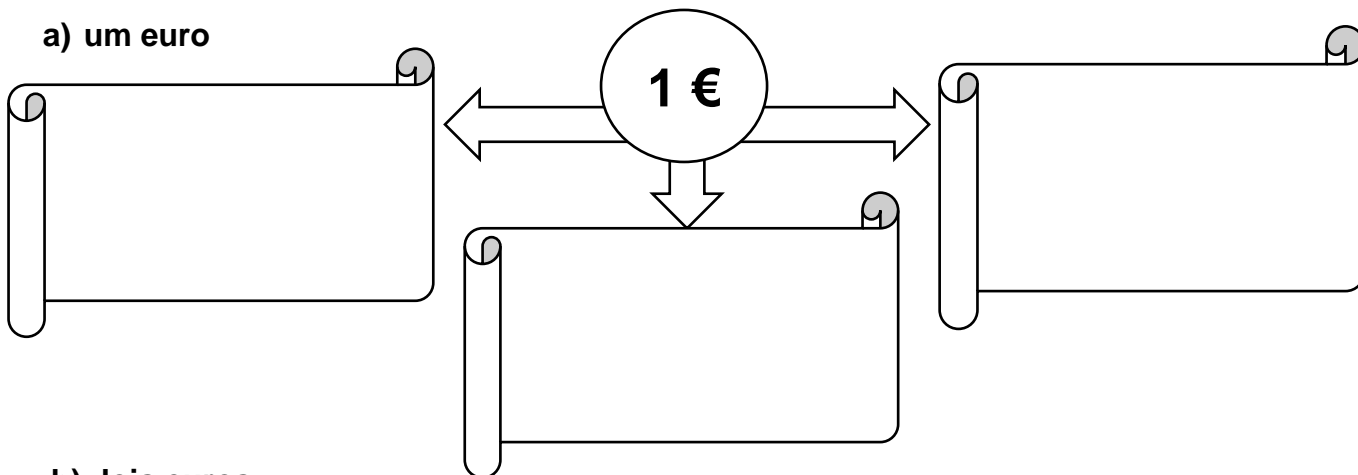
f)  =  

g)  =  

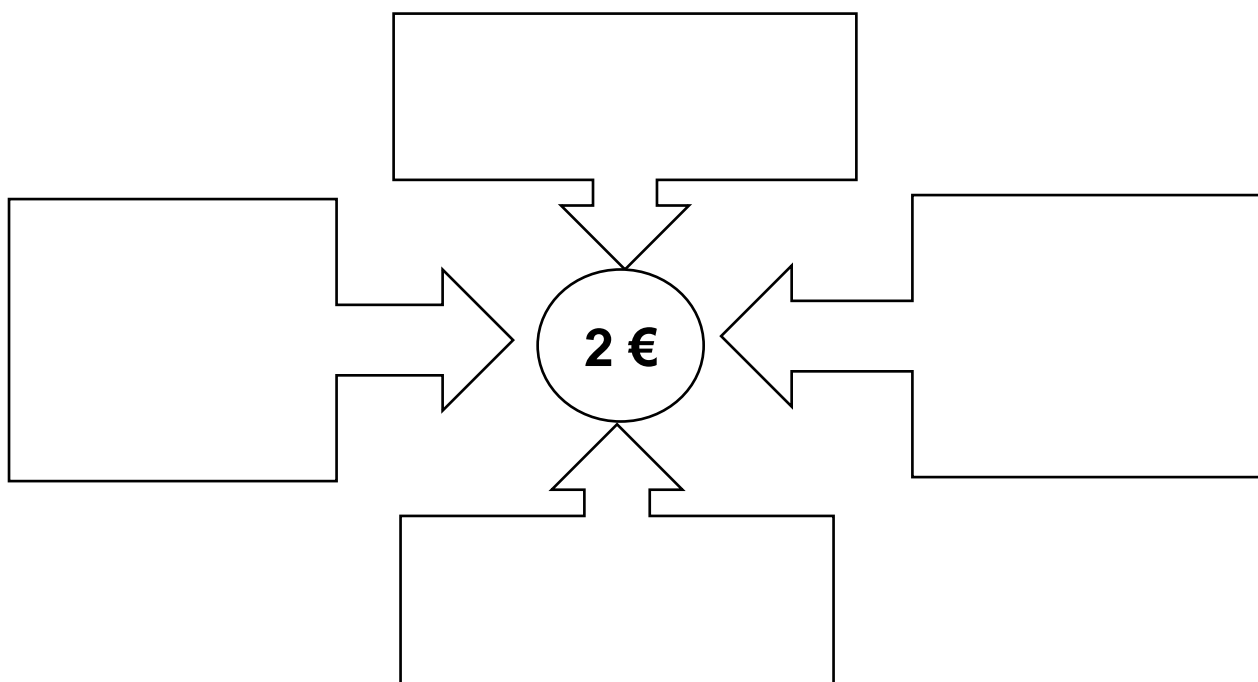
h)  =  

4. Desenha moedas de modo a formar as seguintes quantias de dinheiro:

a) um euro



b) dois euros



5. Lê e escreve as quantias de dinheiro.

18 €	
	quarenta e seis euros
12 € 50 cent.	
	vinte e quatro euros e trinta e cinco cêntimos
43 € 15 cent.	
	oitenta e seis euros e cinquenta e dois cêntimos

## Fontes Bibliográficas:

- ✓ Prof DA Hortense Fonseca, Laudalina Silva, Sandra Borges e Vitor Fernandes, Matemática Passo a Passo – 2º ano, in <http://dre.moodle3.edu.azores.gov.pt>
- ✓ Matemática Passo a Passo, Caderno do aluno 2º ano de escolaridade. Letras Lavradas Edições 2019. Coordenação Científica: Ricardo Teixeira

