



ÁREA CURRICULAR: Matemática

Ano: 2º

Ficha de Trabalho/Atividade nº: 12

Elaborada por: Ana Silva e Mónica Pragana



LEIA, ATENTAMENTE, AS SEGUINTE INSTRUÇÕES:

• Lê os enunciados com muita atenção e responde com calma.


1. No **pictograma** estão indicados os frutos preferidos dos alunos da escola da Maria.



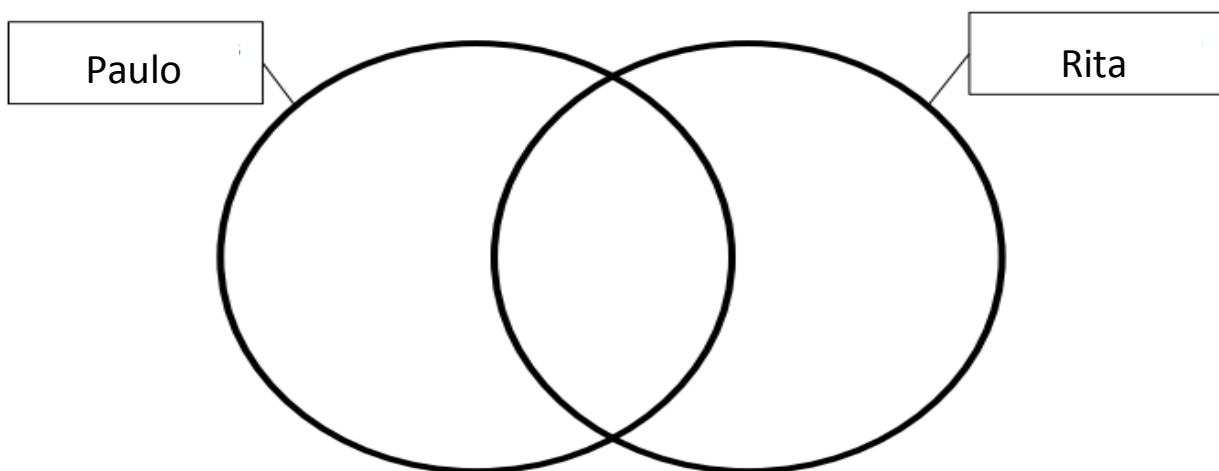
1.1 Completa as frases de acordo com a unidade gráfica.

- a)  representa ____ alunos e  representa ____ alunos.
- b) Completa o pictograma, sabendo que **20** alunos preferem maçã.
- c) Qual a fruta preferida por mais alunos? _____
- d) Quantos alunos preferem quivi? _____
- e) No total, quantos alunos tem a escola? _____
- f) Qual a diferença de alunos entre banana e pera? _____

2. Lê com a atenção as preferências do Paulo e da Rita.



a) Completa o **diagrama de venn** com os animais preferidos de cada um.



b) Animais preferidos do Paulo: _____

c) Animais preferidos da Rita: _____

d) Na interseção dos dois conjuntos estão os animais: _____

e) Na reunião dos dois conjuntos estão os animais: _____


3. Na turma do Rui, fez-se um levantamento dos alunos que jogam voleibol nas Escolinhas do Desporto. A informação foi organizada num diagrama de Carroll.


	Jogam voleibol	Não jogam voleibol	Total
Rapazes	8	_____	13
Raparigas	6	4	_____

2.1 Observa o diagrama de Carroll com atenção.

- a) Completa o diagrama de Carroll com os dados que faltam.
- b) Quantos rapazes não jogam voleibol? _____
- c) Quantas raparigas jogam voleibol? _____
- d) No total, quantos alunos jogam voleibol? _____
- e) Quantas raparigas tem a turma? _____
- f) No total, quantos alunos tem a turma? _____

Já sei 

Tenho de praticar 

Ainda não sei 

Fonte Bibliográfica:

- Matemática Passo a Passo: Caderno do aluno para o 2º ano de escolaridade. Letras Lavadas Edições. 2019. Coordenação Científica: Ricardo Teixeira.

