



ÁREA CURRICULAR: Matemática

Ano: 2º

Ficha de Trabalho/Atividade nº:10

Elaborada por: Ana Isabel e Mónica Pragna

LEIA, ATENTAMENTE, AS SEGUINTE INSTRUÇÕES:

- Repara bem nos números representados em cada dado e resolve a ficha com atenção.

# Vamos Investigar: Qual é o número?

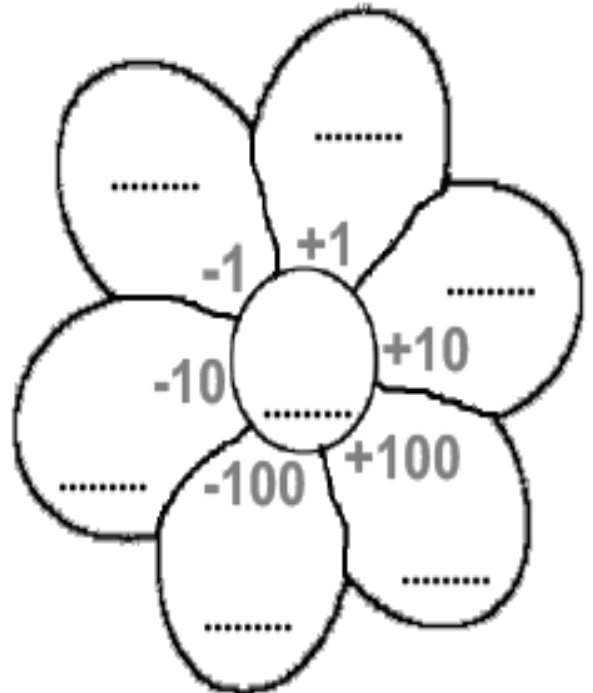
1.º Lança os dados de valor posicional e preenche os espaços.



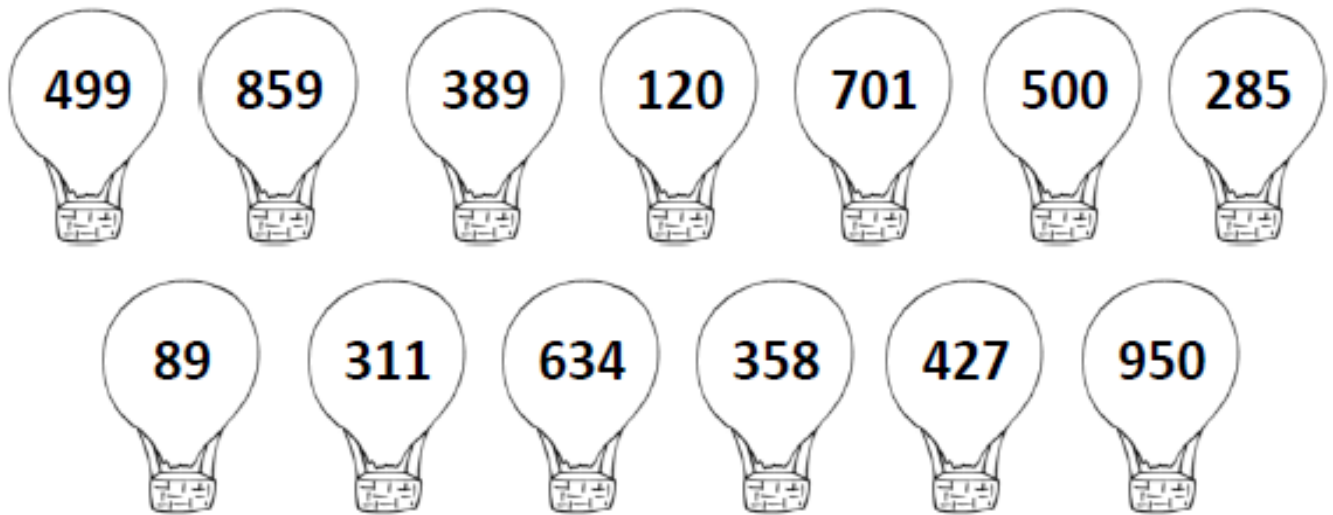
..... + ..... + .....

2.º Completa o quadro e depois a flor.

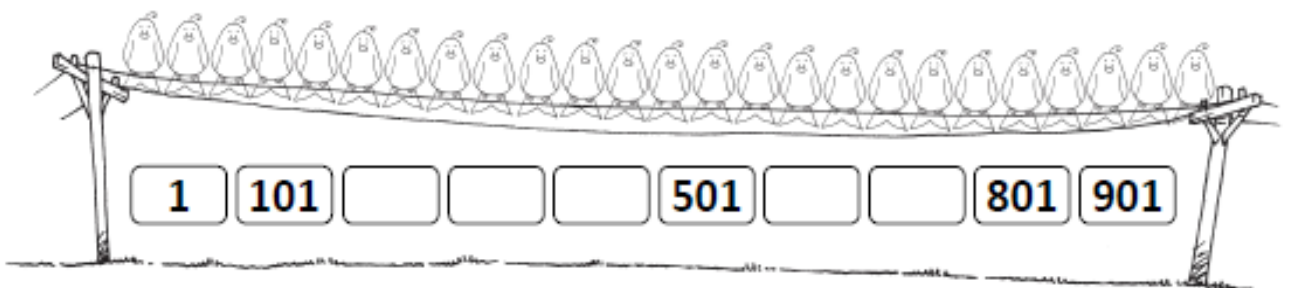
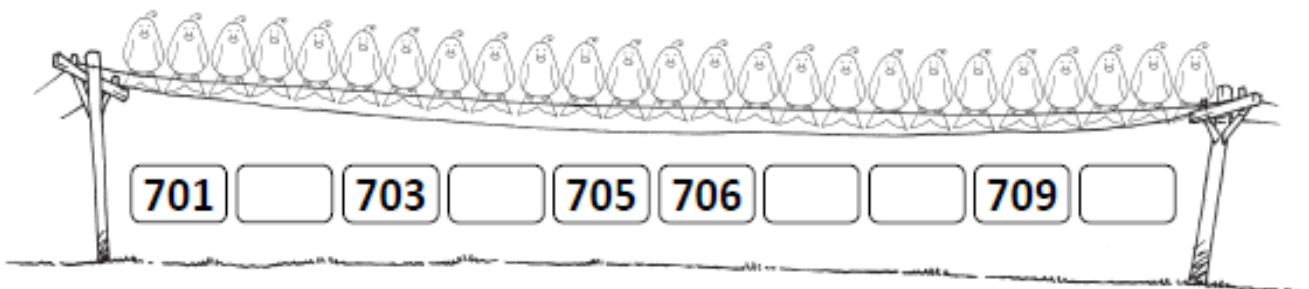
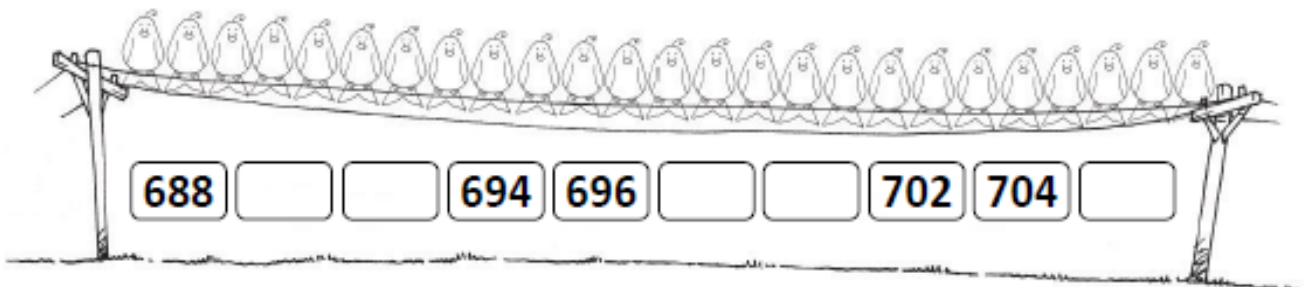
<b>Número:</b> .....	
Leitura por extenso: .....	
.....	
Leitura por ordens:	..... C + ..... D + ..... U
Leituras mistas:	..... C + ..... U
	..... D + ..... U



1 – Pinta os balões com números menores do que 5 centenas.



2 – Descobre o segredo de cada sequência de números e completa.



## Fontes Bibliográficas:

- ✓ <https://brunofernandescr1c.com>
- ✓ Caderno do aluno 2º ano – Projeto Matemática passo a passo

