



ÁREA CURRICULAR: Matemática

Ano: 2º

Ficha de Trabalho/Atividade nº:1

Elaborada por: Ana Isabel e Mónica Pragana

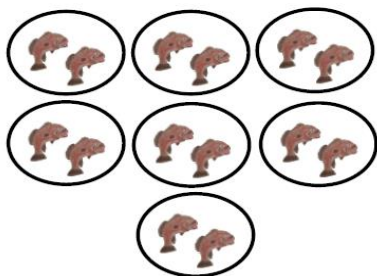
LEIA, ATENTAMENTE, AS SEGUINTE INSTRUÇÕES:

- Deves ler com atenção os enunciados e responder sem pressa para não errares.

## Multiplicação ou Divisão


Nome: ..... Data: ..... / ..... / .....

1. Completa.



$$7 \times 2 = \dots$$


$$14 : 2 = \dots$$



$$2 \times 7 = \dots$$


$$14 : 7 = \dots$$

2. Completa.



$$4 \times 5 = \dots$$

$$20 : 4 = \dots$$



$$5 \times 4 = \dots$$

$$20 : 5 = \dots$$